







Cilja:

- Učenec bere podatke iz preglednic in prikazov.
- Predstavi zbrane podatke.

Vsak od 65 učencev tretjih razredov se je vpisal vsaj v eno interesno dejavnost. S prikazom s stolpci je prikazano, koliko učencev je izbralo posamezno interesno dejavnost.

| | | | | | |
|---|--|---|---|---|---|
| | | | | | |
| | | | | | |
| | | | | | |
| | | | | | |
| | | | | | |
| | | | | | |
| | | | | | |
| | | | | | |
| | | | | | |
| | | | | | |
| | | | | | |
| | | | | | |
| | | | | | |
| | | | | | |
| | | | | | |
|  PEVSKI ZBOR |  NOGOMET |  PLANINCI |  BRALNA ZNAČKA |  ŠAHOVSKI KROŽEK |  PROMETNI KROŽEK |

Legenda: je 2 učenca

Podatke poišči v prikazu s stolpci in jih napiši.

V katero interesno dejavnost se je vpisalo največ učencev?

Koliko? _____

V katero interesno dejavnost se je vpisalo najmanj učencev?


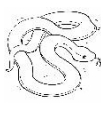



Koliko? _____

Kateri interesni dejavnosti bo obiskovalo enako število učencev?

Koliko manj učencev se je prijavilo k nogometu kot k bralni znački?

—/—

Anže je vprašal sošolce, katere živali so jim všeč. Podatke je prikazal v preglednici.

| |  |  |  |  |  |
|------|---|---|---|---|---|
| JAN | X | X | | | X |
| ANA | X | | | X | X |
| NEŽA | | | | X | X |
| MIHA | X | X | X | X | X |
| ALEŠ | | X | X | | X |
| URH | | | | | X |
| ŽANA | X | | | X | X |
| TIM | X | X | | | X |

Podatke poišči v preglednici in jih napiši.

Katera žival je najbolj priljubljena? _____

Katera žival je učencem najmanj všeč?

Koliko učencev si je izbralo žirafa? _____

Komu je všeč opica? _____

Katere živali si je izbralo enako mnogo učencev? _____






Komu je všeč le ena žival? _____

Kateri učenci so si izbrali dve živali?

Koliko učencem je všeč slon? _____

____/____

Anže je vprašal sošolce, katere živali so jim všeč. Podatke je prikazal v preglednici.

| |  |  |  |  |  |
|------|---|---|---|---|---|
| JAN | X | X | | | X |
| ANA | X | | | X | X |
| NEŽA | | | | X | X |
| MIHA | X | X | X | X | X |
| ALEŠ | | X | X | | X |
| URH | | | | | X |
| ŽANA | X | | | X | X |
| TIM | X | X | | | X |






Podatke iz preglednice prikaži s prikazom s stolpci.

| | | | | |
|------|------|-------|--------|-----|
| | | | | |
| | | | | |
| | | | | |
| | | | | |
| | | | | |
| | | | | |
| | | | | |
| | | | | |
| | | | | |
| | | | | |
| SLON | KAČA | OPICA | ŽIRAFI | LEV |

Legenda: je 1 učenec

—/—

Anže je vprašal sošolce, katere živali so jim všeč. Podatke je prikazal v preglednici.

| |  |  |  |  |  |
|------|---|---|---|---|---|
| JAN | X | X | | | X |
| ANA | X | | | X | X |
| NEŽA | | | | X | X |
| MIHA | X | X | X | X | X |
| ALEŠ | | X | X | | X |
| URH | | | | | X |
| ŽANA | X | | | X | X |
| TIM | X | X | | | X |

Podatke iz preglednice prikaži s prikazom z vrsticami.


Legenda: je 1 učenec

| | | | | | | | | | |
|--------|---|---|---|---|---|---|---|---|---|
| SLON | | | | | | | | | |
| KAČA | | | | | | | | | |
| OPICA | | | | | | | | | |
| ŽIRAFI | | | | | | | | | |
| LEV | | | | | | | | | |
| | 1 | 2 | 3 | 4 | 5 | 6 | 7 | 8 | 9 |

_/

Število posameznih likov prikaži s črtičnim prikazom.

| LIK | ČRTIČNI ZAPIS | ŠTEVILO |
|-------------|---------------|---------|
| ŠESTKOTNIK | | |
| PRAVOKOTNIK | | |
| KROG | | |
| TRIKOTNIK | | |




— / —

Število likov prikaži s prikazom z vrsticami.

Legenda: je 2 lika

| | | | | | | |
|-------------|---|---|---|---|---|---|
| ŠESTKOTNIK | | | | | | |
| PRAVOKOTNIK | | | | | | |
| KROG | | | | | | |
| TRIKOTNIK | | | | | | |
| | 1 | 2 | 3 | 4 | 5 | 6 |



Za podatke v prikazu z vrsticami napiši tri vprašanja.

| |
|-------------|
| <hr/> <hr/> |
|-------------|

Učenci 5. razreda so imeli zimski športni dan. Izbirali so lahko med različnimi športi. Vsak je lahko izbral en šport.

Dopolni podatke v figurnem prikazu.

| | | | |
|----------|----------|---------|---------------|
| ☺ | | | |
| ☺ | | | |
| ☺ | | | |
| ☺ | | ☺ | |
| ☺ | ☺ | ☺ | |
| ☺ | ☺ | ☺ | |
| ☺ | ☺ | ☺ | ☺ |
| ☺ | ☺ | ☺ | ☺ |
| SANKANJE | SMUČANJE | DRSANJE | TEK NA SMUČEH |
| | | | 2 |

Legenda: ☺ je 1 učenec

Poišči podatke in jih napiši.

Kateri šport je izbralo največ učencev? _____

Kateri šport je izbralo najmanj učencev? _____

Koliko učencev je izbralo smučanje? _____

Za kateri šport se je odločilo šest učencev? _____

Koliko učencev je v razredu? _____

___/___

Dopolni podatke v figurnem prikazu.

| | | | |
|----------|----------|---------|---------------|
| ☺ | | | |
| ☺ | | | |
| ☺ | | ☺ | |
| ☺ | | ☺ | |
| ☺ | ☺ | ☺ | |
| ☺ | ☺ | ☺ | |
| ☺ | ☺ | ☺ | ☺ |
| ☺ | ☺ | ☺ | ☺ |
| SANKANJE | SMUČANJE | DRSANJE | TEK NA SMUČEH |
| | | | 2 |

Legenda: ☺ je 1 učenec

Podatke prikaži s črtnim prikazom.

| ŠPORT | ČRTIČNI ZAPIS | ŠTEVILO |
|---------------|---------------|---------|
| SANKANJE | | |
| SMUČANJE | | |
| DRSANJE | | |
| TEK NA SMUČEH | | |

— / —