

**Cilj:**

- Učenec se orientira na ravnini.

Nariši po navodilih.

Na strehi je dimnik.

Pred hišo je avto.

Desno od hiše je drevo.

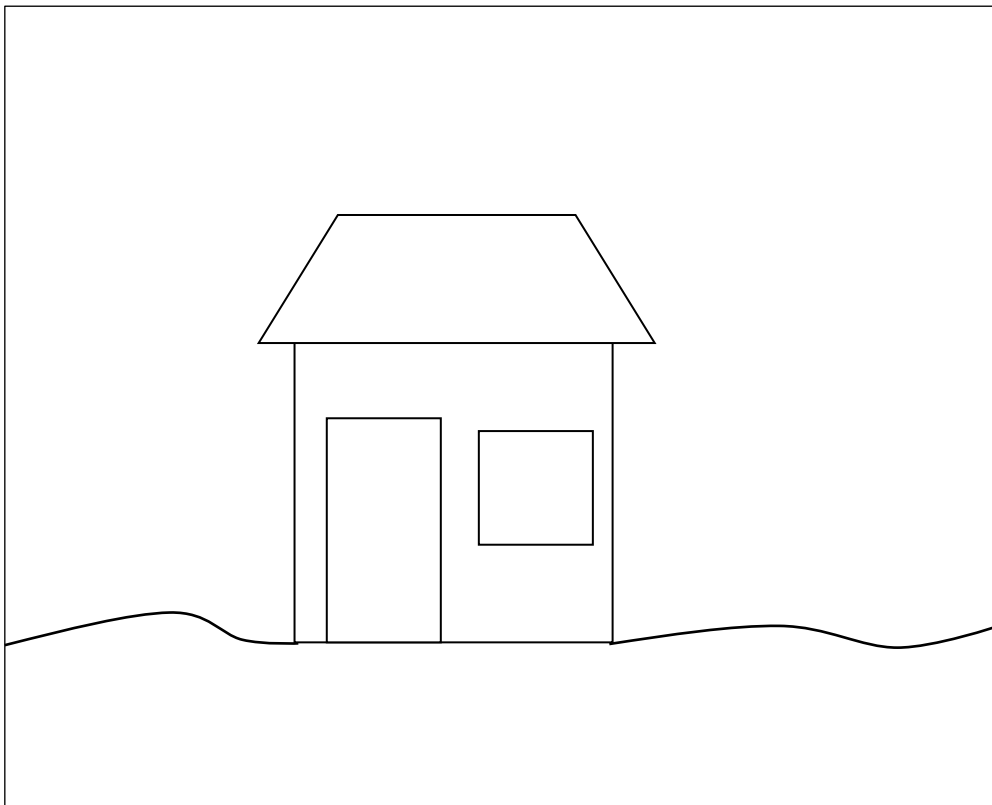
Pod drevesom so rože.

Levo od hiše je ograja.

Za hišo je hrib.

Nad hišo je oblak.

V hiši je Mojca.



— / —

Prični pri rdeči piki in po navodilih potuj po mreži. Vriši pot in izvedel boš, kaj je Luka dobil za darilo.

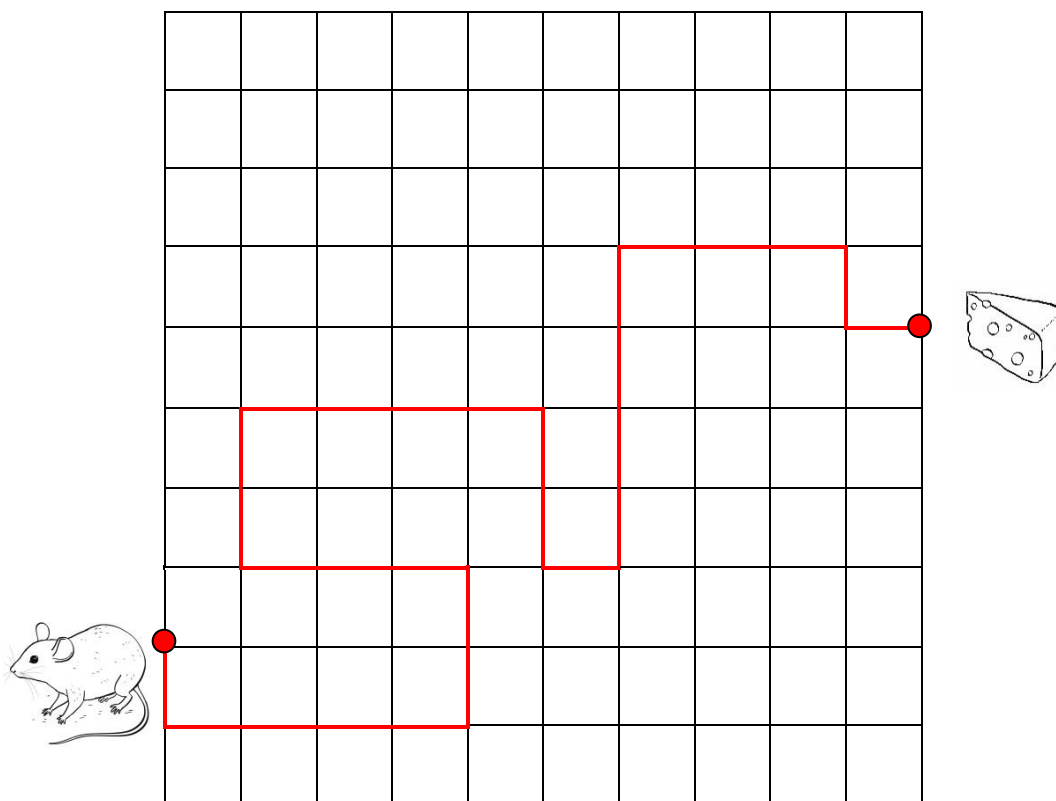
2 →	4 ↓	3 →	2 ↑	4 →	3 ↓	1 →	2 ↓	3 ←	1 ↓
-----	-----	-----	-----	-----	-----	-----	-----	-----	-----

A 10x10 grid with a red dot at (1,2) and blue dots at (5,1), (5,10), and (9,7). An airplane is at (5,1), a cat is at (5,10), and a car is at (9,7).

Luka je za darilo dobil \_\_\_\_\_.

\_\_\_/\_\_\_


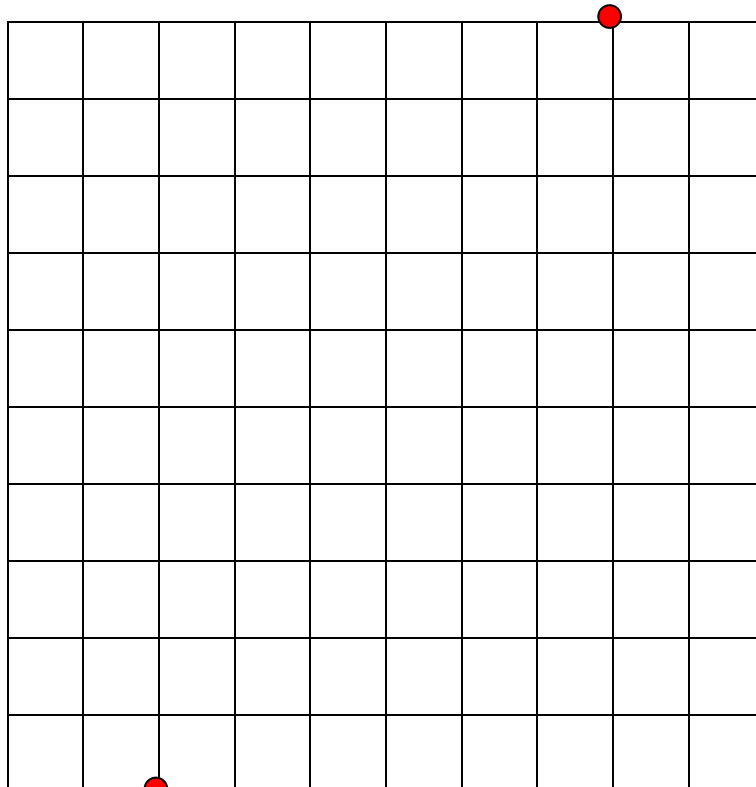
Napiši navodila za pot, po kateri bo miška prišla do sirčka.



--	--	--	--	--	--	--	--	--	--	--	--

— / —

Nariši pot, po kateri bo kuža Bon našel kost. Pot mora imeti 10 navodil.



Napiši navodila.


--	--	--	--	--	--	--	--	--	--

—/—

Peter je povabil Mojco v slaščičarno na praznovanje rojstnega dne. Ker Mojca ne pozna poti, ji je napisal navodila.

Z modro piko na mreži označi začetek Mojčine poti.

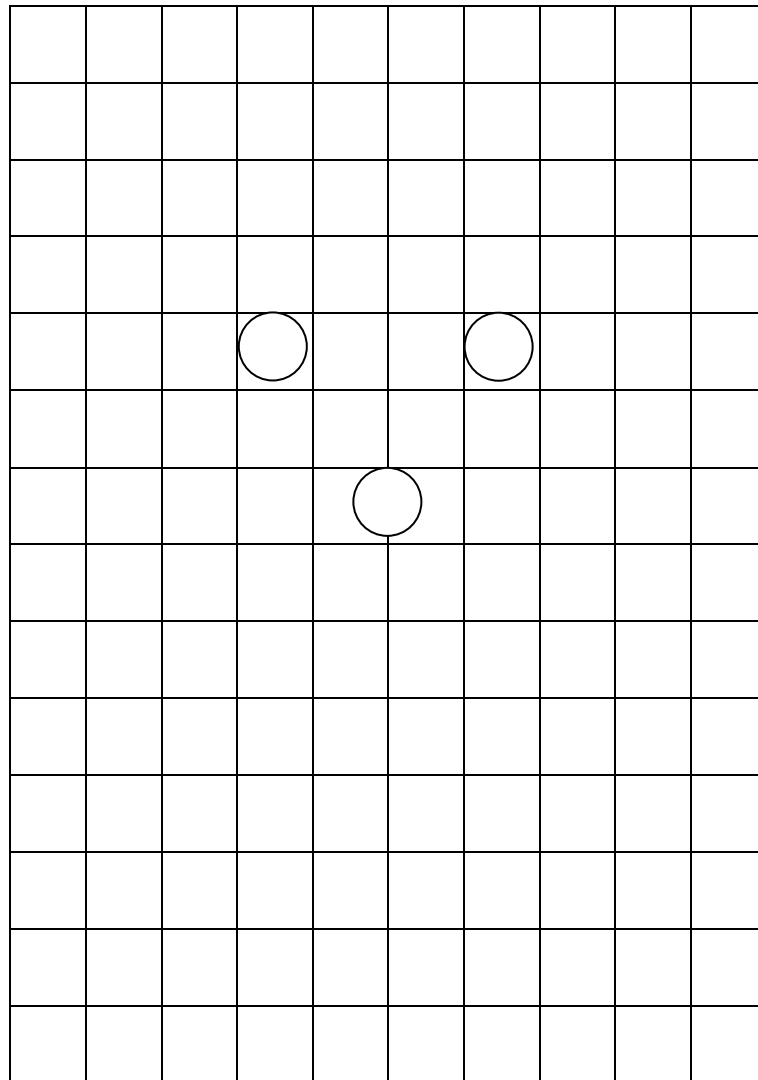
4←	3↓	2→	1↓	1→	4↓	5←	4↑	3←	4↓	1→	1↓
----	----	----	----	----	----	----	----	----	----	----	----



— / —

Napiši 12 navodil, po katerih boš v mreži narisal figuro.

Po navodilih figuro tudi nariši.



—/—

--	--	--	--	--	--	--	--	--	--	--	--