

PONEDELJEK, 23. 3. 2020

SLJ: OPIS POKLICA – CVETLIČAR

Preberi opis poklica cvetličarja. Odgovori na vprašanja. V zvezek za slovenščino najprej napiši vprašanje, nato odgovarjaj v celih (daljših) povedih. Pazi na lep opis in pravilnost zapisa. Naslov napiši z rdečo - CVETLIČAR. V drugo vrstico pa v oklepaju napiši - opis poklica (opis poklica).

Nato še reši uganke. Rešitve lahko napišeš v komentar.

MAT: PREMICA, DALJICA, POLTRAK

Učenci rešijo učni list. Naloge z UL prepisejo v šolski zvezek in rešijo.

NIT: LOČEVANJE ODPADKOV JE POMEMBNO

Učbenik str. 90, 91, 92 – preberejo besedilo in v zvezek prepisejo povzetek (str. 92, na rumenem tisku.) Prerišejo tabelo Kaj sodi med posamezne vrste odpadkov in kaj ne? Str. 91.

CVETLIČAR

(opis poklica)

1. preberi besedilo, izlušči bistvene podatke in ključne besede.

Cvetličar oblikuje različne šopke, aranžira darila, krasí prostore in izdeluje vence in ikebane. Poleg tega skrbi za lončnice ter s cvetjem in zelenjem zasadi zunanje površine. Osnova njegovega dela je nakup rezanega cvetja, lončnic in drugega okrasnega blaga, vse to pa pripravi za nadaljnjo prodajo. Cvetličar mora poznati okrasne rastline, njihovo vzgojo in vzdrževanje, poznati mora rezano cvetje in zelenje, suhe rože in trave. Cvetličar ne more brez sredstev za vzdrževanje rezanega cvetja, za vzgojo ter zaščito rastlin. Zato potrebuje pršilke, zalivalke, škarje, merilce vlage in drugo. Za aranžiranje uporablja še tanko žico in vroče lepilo. Ko povezuje šopke, uporablja ostre vrtnarske škarje za rezanje stebel in po potrebi klešče za oblikovanje žice. Cvetličar opravlja delo na prostem, v rastlinjakih in v zaprtih prostorih. Na prostem opravlja zasaditve ali skrbi za cvetje in zelenje, v rastlinjakih skrbi za lončnice, v zaprtih prostorih pa oblikuje šopke in druge aranžmaje ter ureja in pospravlja prodajne površine. Delo opravlja pretežno stoje, pogosto se mora pripogibati.

2. Vaje vezane na besedilo

Odgovori na vprašanja. Odgovore in vprašanja piši v zvezek.

- ✍ Kaj dela cvetličar?
- ✍ Kaj mora kupiti cvetličar, če želi opravljati svoje delo?
- ✍ Katere so njegove glavne naloge?
- ✍ Kaj mora poznati?
- ✍ Brez česa cvetličar ne more biti?
- ✍ Čemu potrebuje zalivalke, pršilke in merilce vlage?
- ✍ S čim oblikuje žico?
- ✍ Kaj si izvedel/a o tem, kje dela?
- ✍ Kako opravlja svoje delo?
- ✍ Poznaš kakšnega cvetličarja?

UGANKE

O katerih poklicih govorijo naslednja besedila? Dopolni.

Kadar se pelješ v tuje mesto in bi se rad odpeljal na drugo stran, pa nimaš avta, pokličeš moža, ki pripelje mimo. Vozi avto, ki ima na strehi napis _____ . Usedeš se v avto in voznik te odpelje tja, kamor želiš. Plačaš mu za prevožene kilometre. _____ mora dobro poznati mesto, po katerem prevaža potnike, imeti pa mora tudi vozniški izpit, in če je potrebno, ponuditi potniku tudi prvo pomoč.

Na mejnem prehodu te ustavi mož v temni uniformi, ki pogleda v tvoj potni list. Tudi blago, ki ga imaš v potovalki, si ogleda, in če je tega blaga več kot je dovoljeno, moraš plačati _____. Ta mož je

Markova mama ima rojstni dan sredi zime. Marko nikjer ne more nabrati rož, zato zavije v najbližjo _____. Tam ga pozdravi _____, ki se ukvarja z rožami. Pozna njihova imena in ve, kaj rože potrebujejo za rast, koliko vode, sonca, vlage in gnojila. Rože sadi v cvetličnjaku, jih neguje, presaja in skrbi, da zrastejo v zdrave rastline, ki jih bo prodajala kupcem. Zna tudi narediti lepe šopke in en tak šopek je kupil Marko in ga odnesel svoji mami.

V časopis pišejo _____. Če nas je obiskal pomemben pisatelj, če je nekje izbruhnila vojna ali so odprli novo trgovino, pridejo na prizorišče tudi _____. Poročajo nam o najnovejših novicah in ljudje le vključijo televizor, radio ali odprejo časopis in že so sredi dogajanja. Seveda en _____ ne napiše vsega.


Športne dogodke komentira športni _____, kulturne dogodke spremljajo v kulturnem uredništvu in za politiko skrbi strokovnjak za to področje.

VESELA MATEMATIKA – UTRJEVANJE ZNANJA GEOMETRIJE

Vse naloge riši v zvezek za matematiko.

1. Dopolni risbo.

Nariši poltrak k z izhodiščem A v poševni legi, poltrak h z izhodiščem B v vodoravni legi, premico p , ki seka daljico AB v točki B.



2. Natančno beri in reši nalogo.


Nariši premico p v vodoravni legi. V presečišču B naj jo seka premica a v poševni legi.

Nariši daljico AB , dolgo 43 mm. Nariši poltrak k z izhodiščem v točki A v navpični legi.

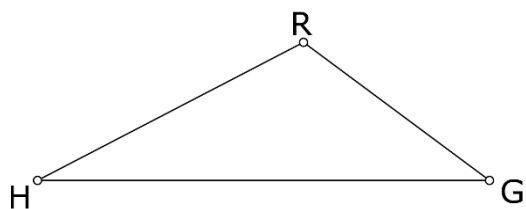
Daljici AB nariši skladno daljico CD .

3. Kako imenujemo spodnje črte?

Matematično zapiši njihove dolžine.



4. Dopolni zapise.



$|HG| = \underline{\hspace{2cm}}$

$|HR| = \underline{\hspace{2cm}}$

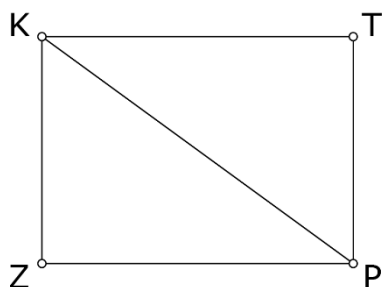
$|GR| = \underline{\hspace{2cm}}$

Nariši trikotnik iz daljic, ki so skladne z že narisanimi daljicami.

5. Katere daljice vidiš na risbi?

Katere daljice so skladne?

Na črto matematično zapiši njihove dolžine.



6. Nariši premico p v vodoravni legi. Premici p nariši pravokotnico d . Njun odnos napiši še z matematičnimi znaki.

7. Premici m nariši vzporednico k . Njun odnos zapiši še matematično.

